



**12 часов ночи
(полночь)**



1 час ночи



2 часа ночи




3 часа ночи



4 часа ночи



5 часов утра



6 часов утра



7 часов утра



8 часов утра



9 часов утра



10 часов утра



11 часов утра





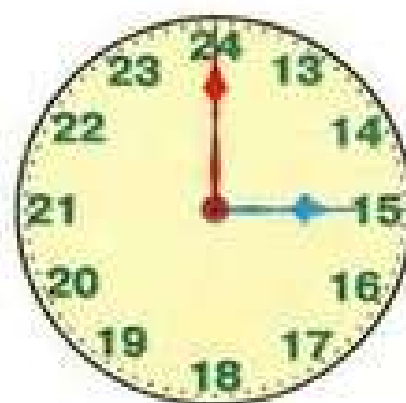
12 часов дня
(полдень)



13 часов или
1 час дня



14 часов или
2 часа дня



15 часов или
3 часа дня



16 часов или
4 часа дня



17 часов или
5 часов вечера



18 часов или
6 часов вечера



19 часов или
7 часов вечера



20 часов или
8 часов вечера



21 час или
9 часов вечера



22 часа или
10 часов вечера



23 часа или
11 часов вечера



Лиза встает в 7 часов утра



Лиза идет в детский сад в...



Лиза завтракает в...



Лиза рисует в...




Лиза гуляет в...



Лиза обедает в...



Лиза отдыхает в...



Лиза полдничает в...



Лиза идет гулять в...




Лиза читает в...

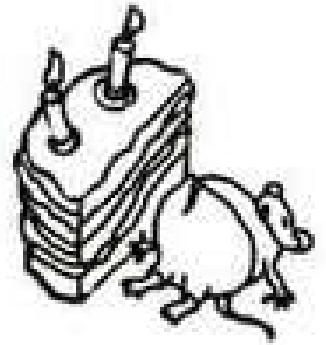


Лиза ужинает в...



Лиза ложится спать в...





12.30




1.30




2.30




3.30




4.30



5.30




6.30



7.30




8.30



9.30




10.30



11.30



Поставь такое же время, как на электронных часах.
Нарисуй часовую стрелку.



7.30



10.30




1.30



3.30

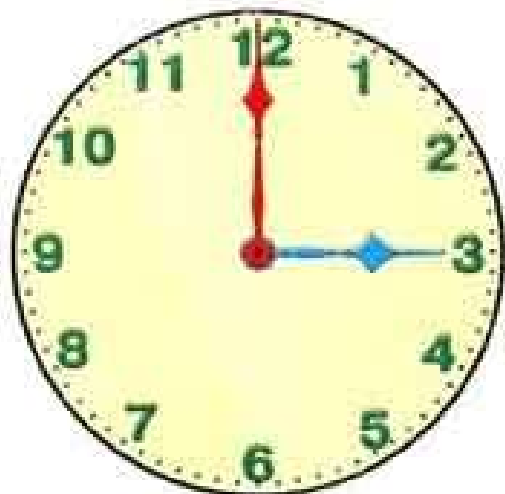
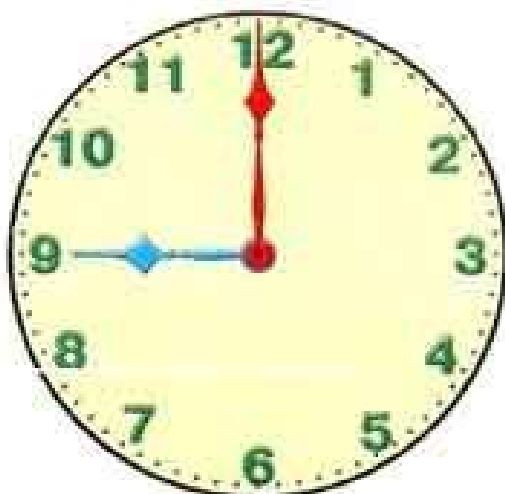
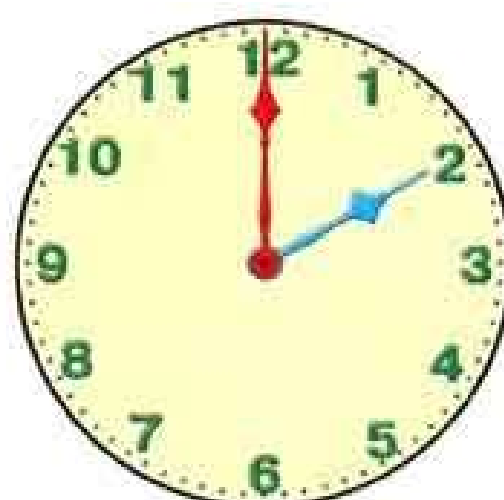
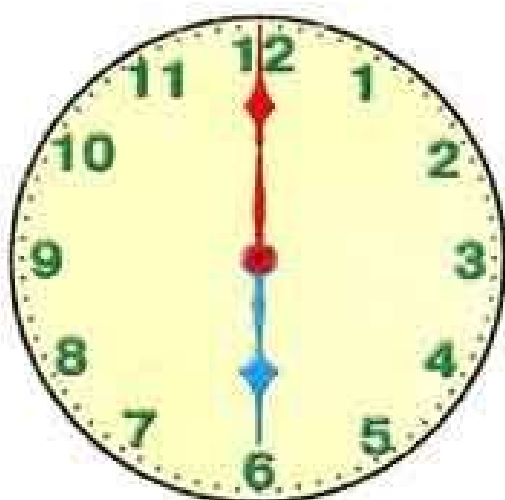


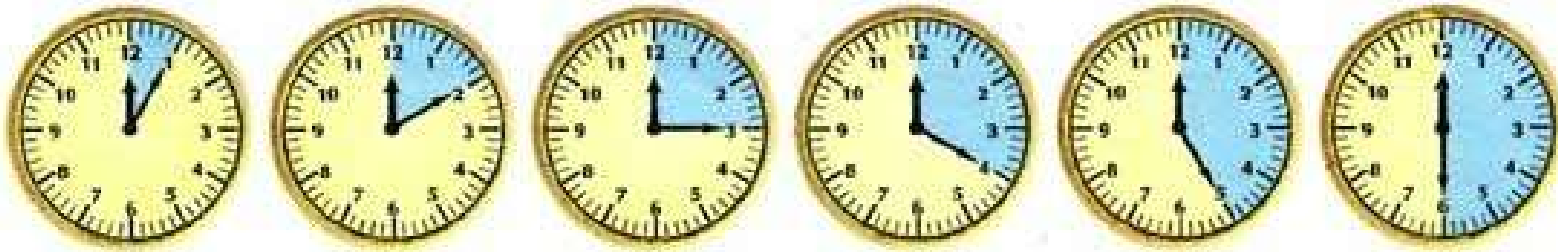
8.30




12.00



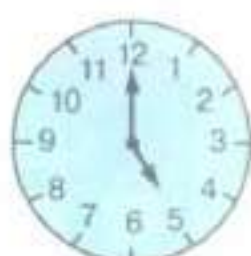




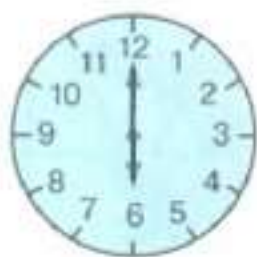
0



1 Который час?



- 0 1 2 3 4 5 6 7 8 9 10



- 1 Таня просыпается в 8 часов утра, обедает в 1 час дня, смотрит детскую передачу в 8 часов вечера, крепко спит в 1 час ночи. Нарисуй стрелки на часах.

